

EVOLUTION DE LA POPULATION :

La démographie de L'Haÿ-les-Roses

La population est l'ensemble des hommes, femmes et enfants qui vivent dans une ville, une région, un pays ou le monde. On parle alors de population mondiale. La science qui étudie les populations : nombre, naissances, mariages, décès, âges s'appelle la démographie.

La démographie de la France est évaluée par des recensements. Le recensement d'une population est une grande opération du calcul de la population d'un territoire, mené en France par l'Institut national de la statistique et des études économiques (INSEE). Cette opération permet de savoir combien d'habitants comptent un pays ou une ville et qui sont ces habitants.

A – LE TEXTE À ÉTUDIER

L'implantation de L'Haÿ sur le plateau de Longboyau offre un vaste panorama sur la vallée de la Bièvre. Cette situation fait de la commune un lieu de villégiature pour les Parisiens qui y font édifier leur maison de campagne dès le XVII^e siècle.

Malgré une activité d'extraction de la pierre et la présence de deux briqueteries, L'Haÿ-les-Roses reste une commune rurale, contrairement aux communes voisines qui développent à la fois leur industrie et leur urbanisme.

La population d'une ville évolue en fonction des emplois et du nombre de logements qu'elle offre, des naissances et des décès. Après une période de guerre, elle peut avoir diminué mais peut aussi être compensée par les migrants venus s'installer sur son territoire. Ainsi, l'apparition des lotissements dans les années de l'entre deux guerres et la construction de la cité castor (voir fiche) du Jardin parisien, dans les années 1950, provoquent l'expansion démographique de la ville. Au lendemain de la Seconde Guerre mondiale, L'Haÿ-les-Roses est une commune majoritairement agricole avec plus des 9/10 du territoire consacré à la grande culture, aux pépinières et aux forceries de lilas. C'est le lotissement des terres agricoles qui va permettre l'expansion démographique de la ville (Cf fiche Villejuif sur les lotissements). Cette expansion est très lisible lors des recensements où l'on voit une augmentation de la population l'haÿssienne de 43% entre 1954 et 1962.

Lorsqu'ils effectuent un recensement, les démographes utilisent des termes officiels comme « famille » et « ménage » qui ont un sens différent. Un ménage désigne l'ensemble des personnes qui vivent dans le même appartement, même si ces personnes ne sont pas de la même famille. Un ménage peut comprendre zéro (deux amis par exemple), une ou plusieurs familles. Une famille est la partie d'un ménage comprenant au moins deux personnes et constituée soit d'un couple avec ou sans enfants, soit d'un adulte avec son ou ses enfant(s) dans le cas d'une famille monoparentale.

Une fois tous les renseignements recueillis, les démographes peuvent étudier la population choisie. Ils peuvent, par exemple, établir la pyramide des âges. Une pyramide des âges est un dessin, un graphique, qui représente la composition d'une population (le nombre de jeunes, d'adultes, de personnes âgées, de femmes, d'hommes) d'un pays ou d'une ville en fonction du sexe et de la classe d'âge (groupe de personnes du même âge ; exemple : toutes les personnes qui ont entre 10 et 14 ans) à un moment donné (le plus souvent une année).

Le travail des démographes permet d'étudier l'évolution d'une ville ou d'un pays, selon les périodes historiques, repérer les diminutions ou les augmentations de sa population, en tentant d'en expliquer les causes.

B – LES DOCUMENTS

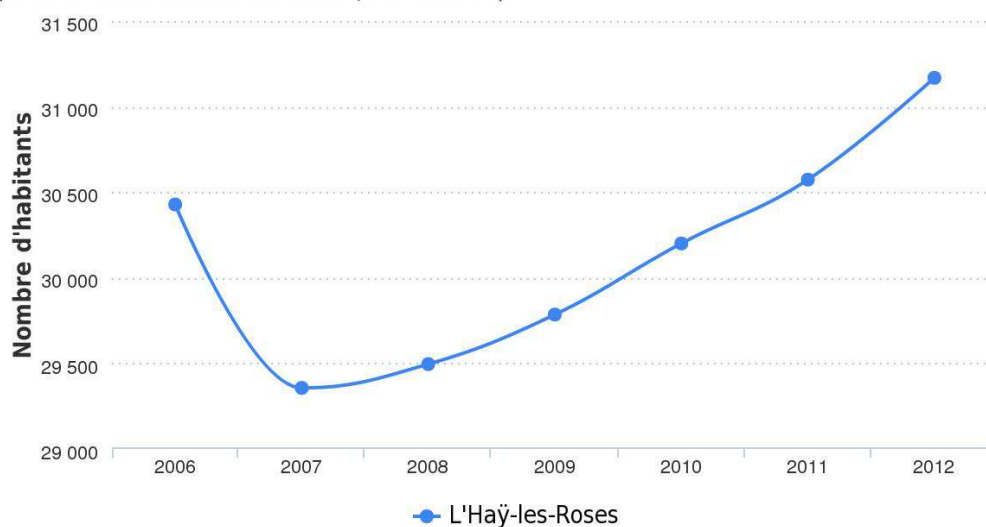
Document 1 - Données générales concernant la population de L'Hay-les-Roses

	L'Hay-les-Roses	Moyenne des villes de France	Villejuif
Population (2012)	31 168 hab.	1 821 hab.	56 504
Densité de population (2011)	7 992 hab/km ²	157 hab/km ²	10581 hab/km ²
Nombre de ménages (2011)	12 471	765	23 165
Habitants par ménage (2011)	2,5	2,4	2,4
Nombre de familles (2011)	8 293	488	14 066
Naissances (2013)	456	22	855
Décès (2013)	168	15	334
Solde naturel (2013)		7	521

En démographie, le solde naturel ou accroissement naturel est la différence entre le nombre de naissances et le nombre de décès sur un territoire par an pour 1000 habitants. Le solde naturel peut donc être positif ou négatif.

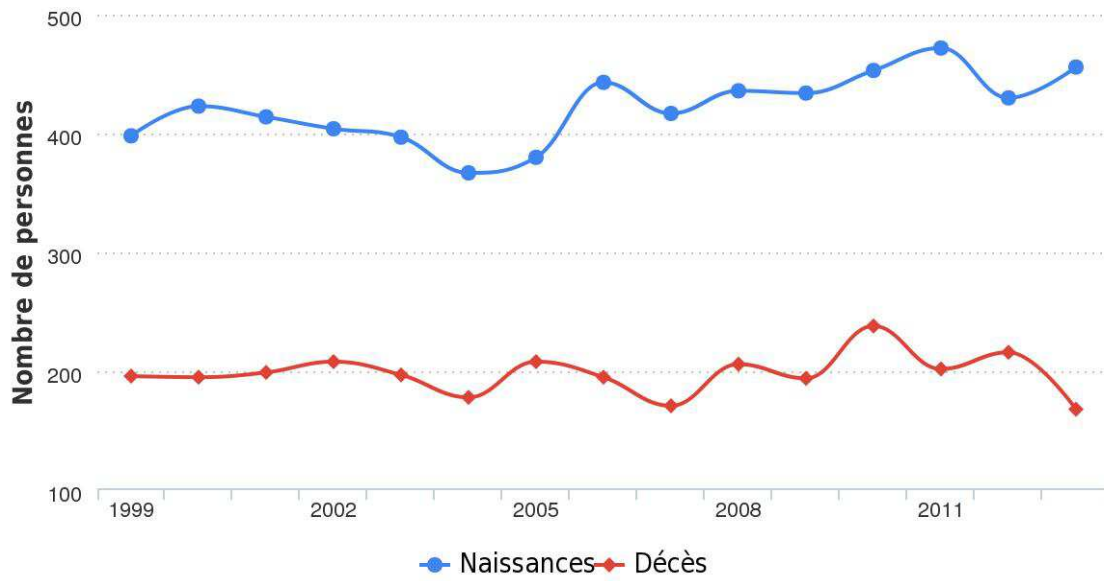
Document 2 - Evolution du nombre d'habitants à L'Hay-les-Roses depuis 2006

(source : Linternaute.com d'après l'Insee)



Document 3 - Naissances et décès à L'Haÿ-les-Roses

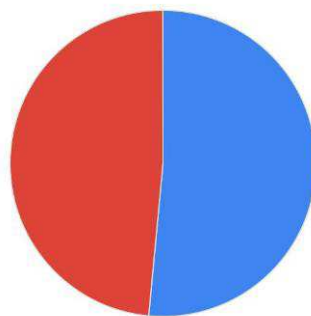
(source : Linternaute.com d'après l'Insee)



Document 4 - Répartition de la population par sexe à L'Haÿ-les-Roses (Données 2011)

	Nombre	% de la population
Hommes	14 822	48,5%
Femmes	15 752	51,50%

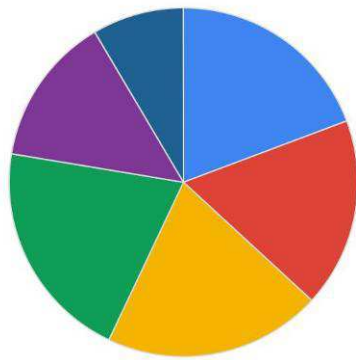
Données 2011 (source : Linternaute.com d'après l'Insee)



■ Femmes ■ Hommes

Documents 5 - Nombre d'habitants par classe d'âge à L'Haÿ-les-Roses

Données 2011 (source : Linternaute.com d'après l'Insee)



0 - 14 ans 15 - 29 ans 30 - 44 ans 45 - 59 ans 60 - 74 ans 75 ans et plus

Données 2011	L'Haÿ : nombre habitants	% de la population
Moins de 15 ans	5 891	19,3 %
15 - 29 ans	5 375	17,6 %
30 - 44 ans	6 165	20,2 %
45 - 59 ans	6 284	20,6 %
60 - 74 ans	4 263	13,9 %
75 ans et plus	2 595	8,5 %

Le type de dessin utilisé pour une répartition en forme de camembert est dit un « graphique en secteurs ». C'est celui qui est représenté ci-dessus. Si pour indiquer les chiffres de la population de L'Haÿ-les-Roses, vous utilisez des barres verticales, comme ci-dessous, vous obtenez une pyramide des âges en bâtons.



A gauche : Méthode des bâtons simples

A droite : Méthode des bâtons superposés

C – PROPOSITIONS POUR LE DEROULEMENT DU TRAVAIL

1 - Les questions possibles :

- Expliquez ce qu'est un « ménage »
- Expliquez ce qu'est une « famille »
- Avez-vous compris ce qu'est un « solde naturel » ? (Cf document 1)
- En vous inspirant des chiffres de Villejuif, calculez le solde naturel de L'Haÿ-les-Roses (288)
- Réfléchir sur la notion de « migrant » : un « migrant » n'est pas forcément un « étranger »
- Observez le document 3. Que remarquez-vous ? Comparez avec le solde naturel.
- Quelle réflexion vous inspire le document 4 ?
- Qu'est-ce qu'une « classe d'âge » ?
- Combien de classes d'âge y a-t-il dans le document 5 ?
- Dans laquelle vous situez-vous ?

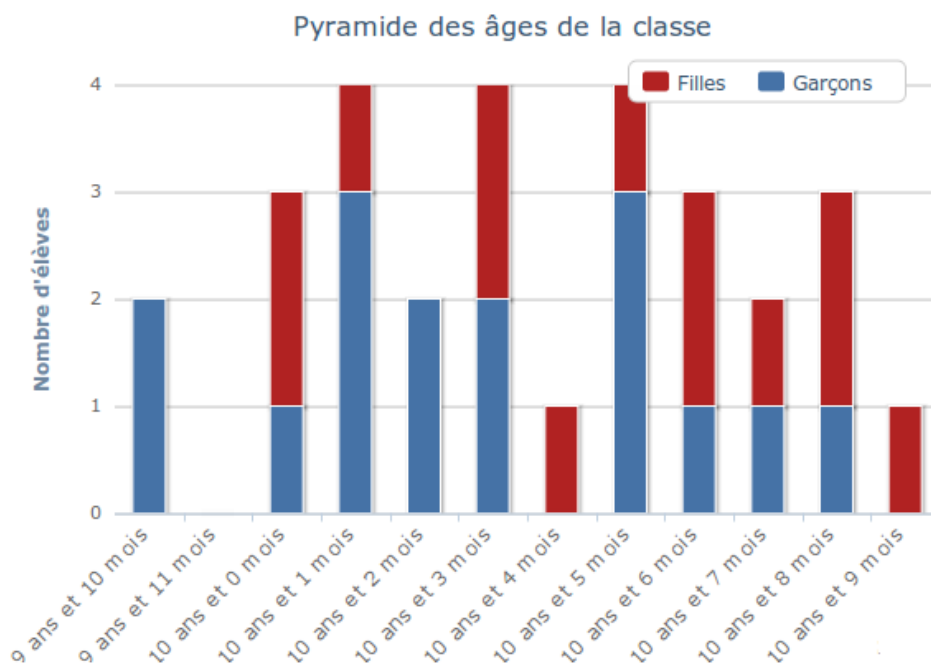
2 – Exercices pratiques

➔ En vous inspirant du document 2 et en utilisant le tableau ci-dessous, dessinez l'évolution de la population de L'Haÿ-les-Roses de 1926 à 2006. Utilisez du papier millimétré.

Années 1926	4 094 habitants
1931	6 369 habitants
1936	7 707 habitants
1946	8 016 habitants
1954	10 278 habitants
1962	17 968 habitants
1968	24 352 habitants
1975	31 412 habitants
1982	29 568 habitants
1990	29 746 habitants
1999	29 660 habitants
2006	30 428 habitants

- En vous inspirant du modèle ci-dessous, réalisez la pyramide des âges de votre classe selon la méthode des bâtons superposés. Utilisez du papier millimétré et des crayons de deux couleurs différentes.

Pyramide des âges



Établissement Public Territorial
Grand-Orly Seine Bièvre